

ข้อสอบนายสิบตำรวจ ชุด 1

(สายอำนวยการ / ตม.)

ทดสอบความรู้ความสามารถ ด้วยวิธีสอบข้อเขียน

ข้อสอบปรนัย 4 ตัวเลือกสายอำนวยการ

ประกอบด้วย จำนวน 150 ข้อ

1.ความสามารถทั่วไป	40	ข้อ
2.ภาษาไทย	20	ข้อ
3.ภาษาต่างประเทศ (ภาษาอังกฤษ)	40	ข้อ
4.สังคม วัฒนธรรม จริยธรรม และอาเซียน	20	ข้อ
5.เทคโนโลยีสารสนเทศเพื่องานสำนักงาน	30	ข้อ

1. โยนเหรียญ 2 เหรียญพร้อมกัน 1 ครั้ง โอกาสที่เหรียญทั้งสองจะออกหน้าหัวอย่างน้อย 1 เหรียญ เท่ากับข้อใด

1. $\frac{3}{4}$

2. $\frac{1}{4}$

3. $\frac{2}{3}$

4. $\frac{1}{2}$

2. ข้อลอตเตอรี่ 1 ใบ โอกาสถูกเลขท้าย 3 ตัว ที่มี 4 รางวัลเท่ากับข้อใด

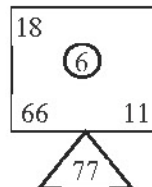
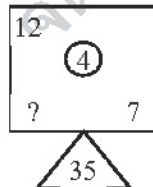
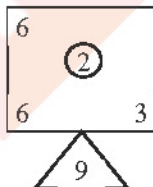
1. $\frac{1}{100}$

2. $\frac{1}{25}$

3. $\frac{1}{4}$

4. $\frac{1}{250}$

3.



1. 16

2. 23

3. 28

4. 30

4. ชั้นเรียนหนึ่งประกอบด้วยนักเรียนชาย 4 คน นักเรียนหญิง 5 คน หากต้องการเลือกตัวแทนจากนักเรียนชาย และ นักเรียนหญิงฝ่ายละ 2 คน จะสามารถเลือกได้กี่วิธี

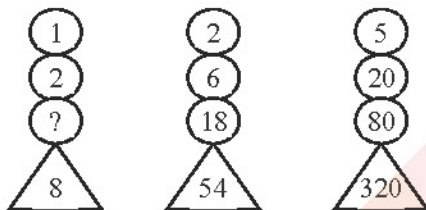
1. 30 วิธี
2. 40 วิธี
3. 50 วิธี
4. 60 วิธี

5. ระฆัง 3 ใบ ใบแรก 8 นาทีตีครั้งหนึ่ง ใบที่สอง 12 นาทีตีครั้งหนึ่ง และใบที่สาม 16 นาทีตีครั้งหนึ่ง เมื่อระฆังทั้งสาม

ใบตีพร้อมกันครั้งหนึ่งแล้วอีกนานกี่นาที จึงจะตีพร้อมกันอีกครั้งหนึ่ง

1. 24
2. 48
3. 60
4. 96

6.



1. 4
2. 6
3. 8
4. 16

7. ชายผู้หนึ่งมีเสื้อ 4 ตัว กางเกง 3 ตัว รองเท้า 2 คู่ เขาจะมีวิธีแต่งตัวได้โดยไม่ซ้ำกันกี่วิธี

1. 9 วิธี
2. 18 วิธี
3. 24 วิธี
4. 36 วิธี

8. เส้น : จุด :: พื้นที่ : ?

1. คณิตศาสตร์
2. เส้น
3. ระยะ
4. ปริมาตร

9. ดินสอ 10 แท่งราคา 50 บาท ปากกา 8 ด้ามราคา 56 บาท อยากทราบว่าราคาปากกาแพงกว่าดินสอร้อยละเท่าใด

1. 12%
2. 28%
3. 40%
4. 50%

10. เลขสองจำนวน จำนวนหนึ่งมีค่าเท่ากับ 8 ค.ร.น. เท่ากับ 24 และ ห.ร.ม. เท่ากับ 4 จงหาเลขอีกจำนวนหนึ่ง

1. 3
2. 6
3. 12
4. 18

11. 3 3 6 6 18

1. 12
2. 14
3. 16
4. 18

12. ทอดลูกเต๋าสองลูกพร้อมกัน จงหาความน่าจะเป็นที่ลูกเต๋าทิ้งสองมีแต้มต่างกันอยู่ 2
1. $1/2$
 2. $2/9$
 3. $3/8$
 4. $3/10$
13. ถ้านำอักษรจากคำว่า "GARANTEE" มาเขียนเรียงเสียใหม่โดยจะมีความหมายหรือไม่ก็ได้ จะเขียนได้กี่วิธี
ต่างๆกัน
1. 1,080 วิธี
 2. 108 วิธี
 3. 10,080 วิธี
 4. 23,420 วิธี
14. หน้อยกับบอยเพิ่งแต่งงานกัน ทั้งสองคนตั้งเป้าหมายจะมีลูก 3 คน จงหาความน่าจะเป็นที่ลูกทั้งสามคนเป็น
ชาย 2 คน หญิง 1 คน
1. $1/8$
 2. $1/4$
 3. $3/8$
 4. $5/8$
15. นกห้าตัวบินมาเกาะกิ่งไม้สามกิ่ง จำนวนวิธีที่นกจะเลือกเกาะกิ่งไม้เท่ากับข้อใดต่อไปนี
1. 15 วิธี
 2. 30 วิธี
 3. 125 วิธี
 4. 243 วิธี
16. คน 4 คน ทำนา 1 ไร่ เสร็จ 7 วัน ถ้าใช้ 16 คน 8 ไร่ เสร็จในกี่วัน
1. 13
 2. 14
 3. 15
 4. 16
17. โรงเรียนแห่งหนึ่งมีนักเรียนชายเป็น 3 เท่าของนักเรียนหญิง นักเรียนชายสอบได้ 60% นักเรียนหญิงสอบ
ได้ 40% อยากทราบว่านักเรียนทั้งหมดสอบได้กี่เปอร์เซ็นต์
1. 50%
 2. 55%
 3. 85%
 4. 120%
18. กระจก : ทะเล :: ? : ?
1. อากาศ : เรือ
 2. เสาโทรเลข : พื้นดิน
 3. เสาอากาศ : คลอง
 4. แม่น้ำ : กระแสน้ำ

19. คนเก่งทุกคนมีสิทธิสอบเข้ารับราชการและสอบเข้ารับราชการได้ นายเจริญเป็นผู้มีสิทธิสอบเข้ารับราชการและสอบเข้ารับราชการได้ ข้อใดถูกต้องที่สุด

1. นายเจริญเป็นคนเก่ง
2. นายเจริญเป็นคนไม่เก่ง
3. นายเจริญอาจเป็นคนไม่เก่งก็ได้
4. นายเจริญฉลาดกว่าคนฉลาดบางคนที่มีสิทธิสอบเข้ารับราชการได้

20. 2,400 2,408 2,359 2,368 2,304 2,314

1. 2,233
2. 2,300
3. 2,345
4. 2,355

21. ขด : วง :: ? : ?

1. ดิ่ง : ขึง
2. ผง : ชูย
3. ผูก : ดึง
4. จืด : รอย

22. เบรก : รถยนต์ :: ? : ?

1. จ็อกกี้ : ม้า
2. นักคิด : นักทำ
3. สติ : คน
4. หัวเทียน : จานจ่าย

23. คนไทยส่วนใหญ่นับถือศาสนาพุทธ นายไตรภพเป็นคนไทย ดังนั้น

1. นายไตรภพนับถือศาสนาพุทธ
2. นายไตรภพเป็นคนไทยที่ไม่นับถือศาสนาพุทธ
3. คนนับถือศาสนาพุทธเป็นคนไทย
4. บอกไม่ได้ว่านายไตรภพนับถือศาสนาพุทธหรือไม่

24. 4 -5 11 -14 22

1. -27
2. -30
3. -45
4. -59

25. จะมีวิธีสร้างเลขหลักร้อย (เลขสามหลัก) จากตัวเลข 1, 2, 3, 4, 5, 6 ได้กี่จำนวนต่าง ๆ กัน โดยเลขแต่ละหลักไม่มีตัวใดซ้ำกันเลย

1. 120 จำนวน
2. 220 จำนวน
3. 2 จำนวน
4. 20 จำนวน

26. 100 50 10 5

1. 1
2. 2
3. 3
4. 4

27. ยุง : ไข่เลือดออก :: ? : ?

1. อหิวาตกโรค : ท้องร่วง
2. แมลงสาบ : วัณโรค
3. เชื้อรา : ไข่หวัด
4. สุนัข : โรคกลัวน้ำ

37. ไข้หวัด 2009 : มะเร็ง :: ? : ?

1. อหิวาตกโรค : กระเพาะ
2. ตับแข็ง : วัณโรค
3. ไข้เลือดออก : ตาแดง
4. โรคตับ : ปอดอักเสบ

38. ข้อใดไม่เข้าพวก

1. ครู
2. ป้าขายกับข้าว
3. แม่ค้า
4. ทหาร

39. จากตารางแจกแจงความถี่ของคะแนนของนักเรียนห้องหนึ่ง ข้อใดกล่าวถูกต้อง

1. นักเรียนที่ได้คะแนนมากกว่า 25 คะแนน มีทั้งหมด 30 คน
2. นักเรียนที่ได้คะแนนน้อยกว่า 34 คะแนน มีทั้งหมด 36 คน
3. นักเรียนที่ได้คะแนนมากกว่า 33 คะแนน มี 12.5% ของนักเรียนทั้งหมด
4. ถูกทุกข้อ

คะแนน	f
18 - 21	4
22 - 25	7
26 - 29	18
30 - 33	6
34 - 37	5

40. จากข้อ 39 ข้อใดกล่าวถูกต้อง

1. ขอบบนของอันตรภาคชั้นที่ 2 รวมกับขอบล่างของอันตรภาคชั้นที่ 4 เท่ากับ 55 คะแนน
2. จุดกึ่งกลางชั้นของอันตรภาคชั้นที่ 3 น้อยกว่าจุดกึ่งกลางของอันตรภาคชั้นที่ 5 เท่ากับ 8 คะแนน
3. ถ้าความถี่สะสมของอันตรภาคชั้นที่ 2 เท่ากับ 11 แล้ว ความถี่สะสมของอันตรภาคชั้นที่ 4 เท่ากับ 35
4. ถูกทุกข้อ

41. ข้อใดต่อไปนี้เป็นถูกต้อง

1. พระบาทสมเด็จพระเจ้าอยู่หัวทรงมีพระบรมราชโองการแก่คณะรัฐมนตรี
2. สมเด็จพระเทพรัตนราชสุดาฯ สยามบรมราชกุมารีเสด็จพระราชดำเนินโดยรถยนต์พระที่นั่งไปจังหวัด

ชลบุรี

3. สมเด็จพระเจ้าลูกเธอเจ้าฟ้าจุฬาภรณวลัยลักษณ์ฯ ทรงเป็นพระอาจารย์สอนวิชาชีววิทยา
4. สมเด็จพระนางเจ้าสิริกิติ์พระบรมราชินีนาถ เสด็จจากตำหนักภูพิงคราชนิเวศน์ไปยังพระราชวัง

49. “บุพหลันเลื่อนลอยฟ้าไม่ราตรี รัศมีส่องสว่างดั่งกลางวัน” ข้อความนี้เป็นโวหารภาพพจน์ชนิดใด
1. อุปมา
 2. อติพจน์
 3. อุปลักษณ์
 4. บุคลาธิษฐาน
50. 1. นรกภูมิ อ่านว่า นะ - รก - กะ - พุม
2. นาฏศิลป์ อ่านว่า นาต - ตะ - สิ้น
 3. นาฏกรรม อ่านว่า นาต - ตะ - กำ
 4. นักยัตร์ อ่านว่า นัก - กะ - สัต
51. ข้อใดที่ไม่ใช่โวหารภาพพจน์
1. ฉันไม่ใช่พระอิฐพระปูนนะ
 2. เขามีเพชรอยู่ในมือแต่ปล่อยให้หลุดมือไปได้
 3. ชรรษชาติรอบข้างต่างสลดหมดความของทุกสิ่งทุกอย่าง
 4. บนเนินเขาเตี้ยๆ มีน้ำพุที่ให้น้ำตลอดฤดู ทั้งฤดูร้อนและฤดูหนาว
52. พระสมณีนี้อยู่ขัดตำนานกันอยู่
1. สวดบทนำเป็นทำนองก่อนสวดมนต์
 2. ทำเรื่องไม่ถูกต้องตามกิจของสงฆ์
 3. ไม่ทำตามที่พระโบราณกล่าวไว้
 4. ทำผิดศีลกันอยู่เนืองๆ
53. ข้อใดปรากฏโวหารภาพพจน์
1. ชำเลืองแลดูหน้าน้ำตาไหล
 2. สิ้นสมุทรสุดแสนสงสารแม่
 3. โอ้พระจันทร์ร้องไห้ในกลีบเมฆ
 4. โลดล่าพองตองเชิงละเลิงมา
54. คำว่า “ข้าพระพุทธเจ้า” เป็นคำสรรพนามบุรุษที่ 1 ใช้กับพระมหากษัตริย์ แต่คำสรรพนามบุรุษที่ 1 ว่า “กระหม่อม” ใช้กับผู้ใด
1. เจ้านายซึ่งต่ำกว่าชั้นพระบรมวงศ์
 2. หม่อมเจ้า
 3. หม่อมราชวงศ์
 4. หม่อมหลวง
55. พระบาทสมเด็จพระเจ้าอยู่หัวได้ “พระชามาตา” หมายความว่า
1. ได้ลูกเขย
 2. ได้หลาน
 3. ได้หลานของลูกเขย
 4. พยาบาลเลี้ยงหลาน
56. คำตรวจกำลังสอบสวนต้นสายปลายเหตุจากพยาน
1. เรื่องที่เกิดขึ้น
 2. ความเป็นมาของเรื่อง
 3. เรื่องที่บันทึกไว้
 4. เรื่องที่เก็บไว้เป็นหลักฐาน

57. พระสงฆ์ถวายอดิเรกแด่ในหลวง
1. ถวายศีล
 2. แสดงธรรม
 3. สวดมนต์ลา
 4. ถวายพรพิเศษ
58. เมื่อพระสงฆ์เจริญพระพุทธมนต์แล้วก็จะถวายเครื่องไทยทานเป็นลำดับต่อไป
1. ให้พร
 2. ขอศีล
 3. สวดมนต์
 4. แสดงธรรม
59. ข้อใดต่อไปนี้มีคำที่เขียนผิด
1. สมใจชอบกินลำไย
 2. สมชายตั้งใจหาลูกสะใภ้ให้คุณแม่
 3. นางวาดทำตัวเหลวไหล จึงไม่มีใครอยากคบด้วย
 4. เขาวิ่งลงบันได เพื่อรีบไปบันทึกความทรงจำ
60. ลูกชายของฉันเป็นคนพูดจาขวานผ่าซาก
1. รุนแรง
 2. หัวงา
 3. ไม่อ้อมค้อม
 4. ตรงๆ ไม่เกรงใจ
61. Everybody _____ about your serious mistakes.
1. are talking
 2. talks
 3. talk
 4. talking
62. _____ are flowers.
1. Roses
 2. A rose
 3. Rose
 4. A roses
63. The next show _____ at 9 p.m.
1. be
 2. Are
 3. are going to be
 4. will be
64. humiliate means :
1. honor
 2. amusement
 3. embarrass
 4. humanity
65. A small number of children in the school _____ able to read English.
1. are
 2. is
 3. was
 4. be
66. manipulate means :
1. mend
 2. sympathy
 3. prejudice
 4. Expose
67. John wants to be _____ actor.
1. a
 2. an
 3. the
 4. -
68. A : Can we meet next Friday ?
- B : Let me see. Yes, _____
1. I can make the morning
 2. I can see my schedule
 3. I have a meeting
 4. I will think about it

69. Substitute the underlined word with a suitable pronoun.

The dog is well – trained.

1. He 2. She 3. They 4. It

70. This new comprehensive study helps us a lot in planning the project.

1. incomplete 2. Intensive 3. Incentive 4. Inclusive

71. I want to order something from your stores ; please get thefor me.

1. dialogue 2. catacomb
3. monologue 4. Catalogue

72. Fog _____ everywhere.

1. were 2. is 3. are 4. have been

73. He could hide his anger because he did not show any expression on his face.

1. attitude 2. comment 3. belief 4. Feeling

74. This year the weather is unusual because it hasn't reined for almost 10 months.

1. strange 2. ordinary 3. Traditional 4. Unpredictable

75. The students endeavors were clearly seen.

1. attempts 2. crust 3. succession 4. upheaval

76. There _____ hives of bees in that big tree.

1. will 2. is 3. are 4. Has

77. If you don't want to hurt your parents, you _____ listen to them.

1. ought to 2. must 3. can 4. 1 and 2 are correct

78. A : I'll pick you up at the airport tonight.

B : _____ .

1. Thank you very much 2. Oh, my goodness
3. Not at all 4. Absolutely

79. Since she likes it, she _____ it already.

1. have bought 2. is bought 3. has bought 4. boys

80. In Thailand, how _____ the weather _____ in May ?

1. will : blank 2. will : be 3. blank ; is 4. - ; be

86. A : Don't they have "lost and found" section here?
 B : Well, I just don't know. Why don't you ask the people at the _____ booth.
 It's on the first floor near the main entrance.
- | | |
|------------------|----------------|
| 1. indication | 2. explanation |
| 3. communication | 4. information |

87.



For how long is the offer valid in the advertisement ?

- | | |
|----------------------|------------------|
| 1. For month | 2. For a day |
| 3. Throughout a year | 4. For two weeks |
88. The ball game was _____ because of the rain.
- | | |
|-------------|------------------|
| 1. scorched | 2. authenticated |
| 3. revived | 4. postponed |
89. A : Who's next?
 B : It's _____ .
- | | | | |
|--------|----------|---------|-------|
| 1. his | 2. yours | 3. mine | 4. me |
|--------|----------|---------|-------|
90. Ken : Are you _____ English this semester?
 Cris : Yes, I _____. I like it very much.
- | | | | |
|---------------|----------------|---------------|----------------|
| 1. take ; are | 2. taken ; are | 3. takes ; am | 4. taking ; am |
|---------------|----------------|---------------|----------------|
91. We don't like his negative comments on out proposal.
- | | | | |
|-------------|---------------|------------|----------|
| 1. opinions | 2. objectives | 3. manners | 4. rules |
|-------------|---------------|------------|----------|
92. Twenty bags of sand _____ wanted here to be block water coming in.
- | | | | |
|-------|-------|--------|--------|
| 1. be | 2. is | 3. are | 4. Was |
|-------|-------|--------|--------|

93. The good _____ to be praised.
1. have
 2. has
 3. has had
 4. is having
94. We bought this house because of its colorful landscape.
1. part
 2. surface
 3. scenery
 4. component
95. The higher payment encourages all staff to work harder.
1. competes
 2. comprises
 3. receives
 4. motivates
96. I have seen my doctor _____ .
1. regularly
 2. recently
 3. lately
 4. all are correct
97. The committee let me _____ a new project.
1. propose
 2. to propose
 3. proposing
 4. to have proposed
98. The Kingdom of Jordan is an Arab Country, surrounded almost entirely by other Arab countries. On the north, it is bounded by Syria and on the northeast by Iraq. On the east and south.
- What is the topic of the paragraph above?
1. Jordan's resources
 2. The Climate of Jordan
 3. Jordan's Eastern neighbours
 4. Jordan's neighbours
99. The police officer issued a _____ for the man's arrest.
1. legend
 2. parcel
 3. receipt
 4. warrant
100. The Criminal Court yesterday sentenced four people to death and for others to life imprisonment after finding them guilty of dealing in narcotics. The defendants, one of them a man. Were arrested in January 2006 for possessing three kilos of heroin at a house in Samut Sakhon. They were charged with producing and trading in narcotics. How long has the man been arrested?
1. He has been arrested for five years.
 2. He has been arrested for six years.
 3. He has been arrested for five months.
 4. He has been arrested for six months.
101. ข้อใดไม่ได้อยู่ในหลักคุณธรรมของตำรวจ
1. การรู้จักระวางความชั่ว ความทุจริต
 2. การรู้จักประหยัดอดออม
 3. การรู้จักข่มใจ "ไม่ล่วง"ไปในทางชั่ว
 4. รู้จักอดทน อดกลั้น ถ่วงความเสียดูจิต


102. ผู้ปกครองประเทศที่มีเล่ห์เหลี่ยม น้อราษฎ์บังหลวง ขาดทศพิษราชธรรมในข้อใด
1. ทาน
 2. อักโกระ
 3. อาชชวะ
 4. อวิหิงสา
103. รัฐมนตรีต่างประเทศของไทยในตอนลงนามปฏิญญาอาเซียนคือใคร
1. จอมพลถนอม กิตติขจร
 2. นางปองพล อติเรกสาร
 3. พันเอก (พิเศษ) ดร.ถนัด คอมันตร์
 4. พระเจ้าวรวงศ์เธอ กรมหมื่นนราธิปพงศ์ประพันธ์
104. ปัญหาและความวุ่นวายในสังคมปัจจุบันเกิดจากคนขาดธรรมะพื้นฐานในการดำเนินชีวิตข้อใด
1. ทศพิษราชธรรม
 2. เบญจศีล –เบญจธรรม
 3. สัปปริสธรรม
 4. พรหมวิหาร 4
105. หลักในการผลิตสินค้าที่ว่า “เมื่อผลิตสิ่งหนึ่งมากขึ้นก็ต้องผลิตสิ่งหนึ่งน้อยลง” เป็นปัญหามูลฐานทางเศรษฐกิจด้านใด
1. ปัญหาว่าจะผลิตอะไร
 2. ปัญหาว่าจะผลิตเมื่อไร
 3. ปัญหาว่าจะผลิตเพื่อใคร
 4. ปัญหาว่าจะผลิตอย่างไร
106. สิบบนพื้นธงอาเซียนมีกี่สี
1. 3 สี
 2. 4 สี
 3. 5 สี
 4. 6 สี
107. AFTA คืออะไร
1. ความร่วมมือทางเศรษฐกิจ
 2. ความร่วมมือทางด้านอุตสาหกรรม
 3. เขตการค้าเสรี
 4. เขตการลงทุนอาเซียน
108. เลขานุการอาเซียนคนปัจจุบันคือใคร
1. UmarjadiNotowijono
 2. สุรินทร์ พิศสุวรรณ
 3. Roderick Yong
 4. เลอ เลื่องมิน
109. การนำร่อง 12 สาขาสำคัญ ประเทศฟิลิปปินส์มีทักษะอะไร
1. อิเล็กทรอนิกส์
 2. ยานยนต์
 3. สิ่งทอ
 4. สาขาสุขภาพ
110. โครงสร้างของสังคมไทยแบ่งออกเป็นกี่ส่วน
1. 2 ส่วน
 2. 3 ส่วน
 3. 4 ส่วน
 4. 5 ส่วน


111. ปัญหาขั้นพื้นฐานทางเศรษฐกิจ ได้แก่
1. จะบริโภคอะไร ผลิตอะไร และผลิตเพื่อใคร
 2. จะใช้ทรัพยากรอย่างไร เพื่อใคร ที่ไหน
 3. การผลิตจะได้กำไร หรือขาดทุน
 4. จะผลิตอะไร จำนวนเท่าไร และจะผลิตเพื่อใคร
112. กฎ ก.ตร. ฉบับนี้ ออกตามมติ ก.ตร. ในการประชุมครั้งที่เท่าใด
1. ครั้งที่ 3/2551
 2. ครั้งที่ 4/2551
 3. ครั้งที่ 5/2551
 4. ครั้งที่ 6/2551
113. การประชุมสุดยอดอาเซียนเป็นการประชุมของประเทศสมาชิกอาเซียนในระดับใด
1. ระดับผู้นำประเทศ
 2. ระดับรัฐมนตรีว่าการต่างประเทศ
 3. ระดับรองนายกรัฐมนตรี
 4. ระดับปลัดกระทรวง
114. ผู้ที่เสนอแนวคิดให้มีการจัดตั้งเขตการค้าเสรีอาเซียน ได้แก่บุคคลใด
1. นาย ลี กวน ยู
 2. นายอานันท์ ปันยารชุน
 3. นายมหาเธร์ โมฮัมหมัด
 4. นายชวน หลีกภัย
115. ใครมีอำนาจและหน้าที่ให้คำปรึกษาแนะนำเกี่ยวกับการปฏิบัติตามประมวลจริยธรรมและจรรยาบรรณ
1. ผู้บัญชาการตำรวจแห่งชาติ
 2. จเรตำรวจแห่งชาติ
 3. ผู้บังคับบัญชาหน่วยงานทุกระดับ
 4. กองบัญชาการเสนาธิการ
116. ข้อใด เป็นกิจของสงฆ์ที่จะต้องพัฒนาจิตให้มีคุณภาพ เพื่อให้จิตเข้มแข็ง ไม่หวั่นไหวต่อสิ่งที่มากระทบ
1. การศึกษาอบรมด้วยศีล
 2. การศึกษาอบรมด้านสมาธิ
 3. การศึกษาอบรมด้านปัญญา
 4. การศึกษาอบรมด้านนามจันท์
117. ธงชาติของประเทศใดในอาเซียนที่มีลักษณะเป็นสี่เหลี่ยมผืนผ้าตอนบนเป็นรูปสามเหลี่ยมสีขาวภายในมีรูปดวงอาทิตย์รัศมี 8 แฉก
1. ธงชาติเมียนมาร์
 2. ธงชาติฟิลิปปินส์
 3. ธงชาติกัมพูชา
 4. ธงชาติเวียดนาม
118. ข้อใดไม่จัดเป็นองค์การความร่วมมือทางเศรษฐกิจในสมาคมประชาชาติแห่งเอเชียตะวันออกเฉียงใต้ หรืออาเซียน
1. เขตการลงทุนอาเซียน
 2. เขตการค้าเสรีอาเซียน
 3. องค์การการค้าโลก
 4. โครงการอุตสาหกรรมอาเซียน
119. ข้อใดไม่ใช่ข้อห้ามในศาสนาอิสลาม
1. ห้ามฆ่าตนเองและผู้อื่น
 2. ห้ามการคุมกำเนิดและทำแท้ง
 3. ห้ามการเลี้ยงโชคและการพนัน
 4. ห้ามกราบบุคคลอื่นยกเว้นบิดามารดา
120. การรู้จักสงบใจจากกิเลสในหลักธรรมอริยฐานธรรม คือข้อใด
1. จันดี
 2. ปัญญา
 3. อุปสมะ
 4. จากะ

121. โดยปกติเมื่อเริ่มเปิดเอกสาร Word จะกำหนดให้ข้อความภาษาไทยใช้ฟอนต์ใด
1. Angsana New
 2. Times New Roman
 3. Cordia New
 4. Arial
122. $9 + \frac{3}{4}$ จะได้ผลลัพธ์เท่าใด
1. 9.75
 2. 9.3
 3. 3
 4. ถูกทั้งข้อ 1. และ 2.
123. ข้อใด กล่าวผิด
1. การเปลี่ยน โคร่งร่างสีสามารถทำได้ โดย 1) คลิกปุ่ม Design 2) คลิกที่ Color Schemes เพื่อแสดงชุดสี 3) คลิกเลือกชุดสี หรือคลิกที่ปุ่มและคำสั่งของชุดสีที่ต้องการ
 2. แถบเครื่องมือที่ใช้ในการแก้ไข ปรับแต่งข้อความหรือตัวอักษร ใน โปรแกรม Microsoft Powerpoint เรียกว่า Formatting Toolbars
 3. ขั้นตอนของการเปลี่ยนพื้นหลัง คือ คลิกขวานบนพื้นสไลด์แล้วเลือก Background >แล้วเลือก Fill Effects
 4. Presentation Wind คือ ส่วนที่ใช้ในการแสดงเนื้อหา
124. เมื่อเรากดข้อความแล้ว หากต้องการจะขึ้นบรรทัดใหม่ในเซลล์เดิมต้องทำอย่างไร
1. กด Ctrl + Enter
 2. กด Alt + Enter
 3. กด Shift + Enter
 4. กด Enter
125. ข้อใดถูกต้องเกี่ยวกับการปรับระยะห่างระหว่างตัวอักษร
1. เลือกข้อความที่ต้องการ
 2. คลิกขวานบนข้อความแล้วเลือก Font
 3. คลิกแท็บ Character Spacing
 4. ถูกทุกข้อ
126. ข้อใดคือสูตรสำเร็จที่ Excel กำหนดรูปแบบการคำนวณให้เรียบร้อยแล้ว
1. Formula
 2. Function
 3. Argument
 4. Sum
127. ข้อใดคือการเลือกเซลล์ทั้งหมดในเวิร์กชีต
1. เลื่อนเมาส์พอยเตอร์ไปยังส่วนหนึ่งหมายเลขแถวและชื่อคอลัมน์มาบรรจบกัน แล้วคลิกเมาส์ 1 ครั้ง
 2. เลื่อนเมาส์พอยเตอร์ไปยังตำแหน่งของเซลล์แรก แล้วกดปุ่ม ค้างไว้ แล้วเลื่อนเมาส์พอยเตอร์ไปคลิกยังตำแหน่งสุดท้าย แล้วจึงกดปุ่ม
 3. Ctrl + z
 4. Ctrl + F

128. การสร้างสไลด์ด้วย งานนำเสนอเปล่า (Blank Presentaion) มีลักษณะการสร้างอย่างไร
1. โปรแกรมจะมีรูปแบบพร้อมข้อความมาตรฐานมาให้เลือกใช้งาน ได้ทันที
 2. โปรแกรมจะจัดเตรียมชุดแม่แบบออกแบบ (template) ซึ่งเป็นแบบของฉากหลังและชุดสีมาให้แต่ ผู้ใช้ต้องพิมพ์ข้อความลง ไปเอง
 3. เป็นการสร้างสไลด์ด้วยตนเอง
 4. ไม่มีข้อใดถูก
129. ข้อใดคือลำดับขั้นตอนการบันทึกงานที่ถูกต้อง
1. คลิกเพิ่ม -->บันทึก -->เลือกเพิ่มงาน -->บันทึก
 2. คลิกเพิ่ม -->บันทึกเพิ่มเป็น --> เลือกเพิ่มงาน --> บันทึก
 3. คลิกเพิ่ม --> บันทึก --> เลือก โฟลด์เดอร์--> เปลี่ยนชื่อเพิ่ม --> บันทึก
 4. คลิกเพิ่ม --> บันทึกเพิ่มเป็น -->เลือก โฟลด์เดอร์--> บันทึก
130. การพิมพ์สูตรลงในช่องเซลล์มีช่องที่พิมพ์ได้ทั้งหมดกี่ช่อง
1. 1 ช่อง คือช่องเซลล์ (cells)
 2. 2 ช่อง คือช่องแถบสูตร (Formula Bar) และกล่องชื่อ (Name Box)
 3. 2 ช่อง คือช่องเซลล์ (cells) กับช่องแถบสูตร Formula Bar
 4. 3 ช่อง คือช่องเซลล์ (cells) ช่องแถบสูตร (Formula Bar) และกล่องชื่อ (Name Box)
131. โปรแกรม (Microsoft Excel) เป็นโปรแกรมประเภทใด?
1. โปรแกรมกราฟฟิกส์
 2. โปรแกรมนำเสนอข้อมูล
 3. โปรแกรมการประมวลคำ
 4. โปรแกรมตารางคำนวณอิเล็กทรอนิกส์
132. ข้อใดต่อไปนี้กล่าวไม่ถูกต้องเกี่ยวกับการจัดการแผ่นงาน
1. การตั้งชื่อแผ่นงานสามารถตั้งได้ 31 ตัวอักษร
 2. หากต้องการหาว่าจำนวนของชุดข้อมูลมีจำนวนเท่าใดต่อฟังก์ชัน MAX
 3. การสร้างแผ่นงานใหม่ทำได้โดยการกดปุ่ม Ctal+ N
 4. การบันทึกแผ่นงานต้องทำที่เมนู ไฟล์ (File)
133. ข้อใดคือขั้นตอนการเปิดโปรแกรม Microsoft Word ที่ถูกต้องที่สุด
1. Start --> Programs -->Microsoft office--> Microsoft one note
 2. Start --> Programs --> Microsoft office--> Microsoft Excel
 3. Start --> Programs --> Microsoft office--> Microsoft Power Point
 4. Start --> Programs --> Microsoft office--> Microsoft Word

134. ถ้าปรากฏข้อความ ##### เมื่อป้อนสูตรหมายความว่าอย่างไร
1. ช่องเล็กเกินกว่าจะแสดงข้อมูลทั้งหมด
 2. ตัวอิงขยายผิด
 3. สูตรนั้นมีการหารด้วย 0
 4. สูตรอ้างอิงขอบเซลล์ไม่ถูกต้อง
135. \sum หมายถึงข้อใด?
1. ผลรวมอัตโนมัติ
 2. การเชื่อมโยงหลายมิติ
 3. การเรียงลำดับข้อมูล
 4. แสดงวิธีการใช้ Excel
136. \overline{C} เป็นปุ่มคำสั่งอะไร
1. การส่งฉายสไลด์
 2. การออกจากโปรแกรม
 3. การสั่งพิมพ์
 4. การเปลี่ยนภาพพื้นหลัง
137. การลบข้อความที่ต้องการลบ ต้องกดปุ่มใด
1. INSERT
 2. SHIFT
 3. BACKSPACE
 4. CAPS LOCK
138. การลบตัวอักษรที่อยู่หลัง Cursor ต้องใช้ปุ่มใด
1. SPACE BAR
 2. DELETE
 3. BACKSPACE
 4. CAPS LOCK
139. ถ้าต้องการคำนวณตัวเลขในเซลล์ C1 ถึง C8 จะใช้สูตรว่าอย่างไร
1. C1 + C8
 2. = SUM(C1 : C8)
 3. = (C1 + C8)
 4. = SUM (C1 + C8)

140.  ภาพนี้ชื่อว่าอะไร
1. แถบเมนูบาร์
 2. แถบเครื่องมือรูปภาพ
 3. แถบเครื่องมือจัดรูปแบบ
 4. แถบชื่อเรื่อง
141. ข้อใดคือขั้นตอนแรกในการพิมพ์เอกสาร
1. ตั้งค่าน้ำกระดาษ
 2. ตั้งขนาดตัวอักษร
 3. จัดข้อความกึ่งกลาง
 4. ผิดทุกข้อ
142. แผนภูมิที่เหมาะสมกับการเปรียบเทียบข้อมูล คืออะไร
1. แผนภูมิพื้นที่
 2. แผนภูมิแท่ง
 3. แผนภูมิเส้นตรง
 4. แผนภูมิรูปโดนัท

143.  แถบเครื่องมือที่ถูกระบุนี้มีชื่อว่าอะไร
1. จัดรูปแบบ
 2. แถบเครื่องมือด่วน
 3. รายการ
 4. กล่องเครื่องมือควบคุม

144. การกำหนดพื้นที่การพิมพ์เอกสาร ต้องใช้เมนูใด
1. File > Print Preview
 2. File > Page Setup
 3. File > Print Area
 4. File > Print
145. การใช้การคำนวณอัตโนมัติสามารถผลลัพธ์ได้ทันทีที่ใด
1. แถบเครื่องมือ
 2. แถบเมนู
 3. แถบสถานะ
 4. แถบสูตร
146. ข้อใดเป็น Software ของระบบคอมพิวเตอร์
1. Intel Pentium 4
 2. Internet Explorer
 3. Uninterruptible Power Supply
 4. Laser Printer
147. ตัวเลือกข้อใดที่เป็นหน่วยความจำแบบปฐมภูมิ (Primary Storage)
1. Floppy Disk
 2. RAM
 3. DVD
 4. Hard Disk
148. เครื่องคอมพิวเตอร์มีความสามารถ
1. ปฏิบัติตามคำสั่งคำนวณทางคณิตศาสตร์และตรรกศาสตร์
 2. สร้างชุดคำสั่งเพื่อนำมาปฏิบัติ
 3. ตรวจสอบความถูกต้องของชุดคำสั่ง
 4. ตรวจสอบความถูกต้องของข้อมูล
149. หน่วยความจำชนิดใดที่สามารถเก็บข้อมูลไว้อย่างถาวร และข้อมูลเหล่านั้นไม่สามารถลบโดยผู้ใช้เครื่องคอมพิวเตอร์ และยังทำหน้าที่เก็บข้อมูลเริ่มต้นการทำงานของเครื่องคอมพิวเตอร์
1. ROM
 2. Virtual Memory
 3. RAM
 4. Main Memory
150. สัญญาณทางอิเล็กทรอนิกส์ที่ใช้ในการประมวลผลด้วยวงจรคอมพิวเตอร์เป็นสัญญาณชนิดใด
1. สัญญาณอนาลอก
 2. สัญญาณไฟฟ้ากระแสตรง
 3. สัญญาณดิจิทัล
 4. สัญญาณไฟฟ้ากระแสสลับ
